



**UNIVERSITA' DEGLI STUDI DI VERONA**

*Prova di Selezione per il Corso di Laurea in  
Scienze del Servizio Sociale*

***Fascicolo delle domande***

APPLICA QUI IL  
CODICE TEST

**ATTENZIONE:**

NON APRIRE L'INVOLUCRO DI PLASTICA  
PRIMA CHE VENGA DATO IL SEGNALE DI  
INIZIO PROVA



**1) Individua la parola da scartare:**

- A) Affinità
- B) Estraneità
- C) Analogia
- D) Conformità

**2) In una scuola superiore gli studenti studiano l'inglese e/o lo spagnolo. Il 70% studia l'inglese e il 60% lo spagnolo. Quale percentuale di studenti studia entrambe le lingue?**

- A) I dati non sono sufficienti per rispondere.
- B) 65%
- C) 40%
- D) 30%

**3) La “Rivoluzione ungherese” del 1956 fu una sollevazione popolare contro:**

- A) Il nazismo tedesco
- B) Gli USA e il blocco della Nato
- C) La corruzione dei politici nazionali
- D) L'Unione Sovietica e il Patto di Varsavia”

**Si legga il seguente testo: «Un questionario retrospettivo è stato somministrato a 638 studenti, 18enni, per ricavare indici relativi alla prevalenza delle varie forme di abuso sessuale nei primi 18 anni di vita. Si rileva una percentuale di soggetti abusati maggiore di quelle riportate dalla letteratura estera, con una prevalenza di ragazze tra le vittime. Gli abusi sessuali intrafamiliari sono presenti mentre quelli perpetrati da sconosciuti sono rari. Vi è la possibilità che alcuni tipi di abusi (maggiormente destrutturanti) non siano per vari motivi rilevabili dallo strumento. L'alta percentuale di soggetti abusati da coetanei, compagni di giochi e cugini rimanda alla necessità di esplorare contemporaneamente la prevalenza e la tipologia dell'abusante. La realtà dell'abuso sessuale è così evidente da rendere necessari programmi di prevenzione per le vittime e per i perpetratori.» (Zerilli, Rigoni, Caldana, Magrin, Schon, & Valentini, 2002)**

**4) Quale tra i seguenti non potrebbe essere un titolo per questo brano?**

- A) Abuso sessuale: uno studio sulla prevalenza nei primi 18 anni di vita.
- B) Uso di un questionario per indagare la prevalenza dell'abuso sessuale in un campione di studenti di 18 anni.
- C) Punti di forza e limiti nell'uso di un questionario per rilevare la prevalenza dell'abuso sessuale.
- D) Una ricerca su prevalenza e caratteristiche dell'abuso sessuale.

**5) Facendo riferimento al testo sopra riportato, individuare tra le osservazioni che seguono quella che è coerente con quanto espresso nel testo:**

- A) L'alto numero di persone minorenni abusate da coetanei, compagni di giochi e cugini sottolinea la necessità di condurre ricerche per conoscere in modo più approfondito sia la prevalenza sia la tipologia dell'abusante.
- B) Il basso numero di soggetti abusati da coetanei, vicini di casa e zii sottolinea la necessità di condurre ricerche per indagare la prevalenza e la tipologia dell'abusante.
- C) La bassa percentuale di soggetti abusati da coetanei, compagni di giochi e cugini rimanda alla necessità di esplorare contemporaneamente le caratteristiche e la tipologia dell'abusante.
- D) L'alta percentuale di soggetti abusati da coetanei, compagni di giochi e cugini rimanda alla necessità di mettere a punto programmi di prevenzione.

- 6) **Facendo riferimento al testo sopra riportato, individuare tra le osservazioni che seguono quella che non è coerente con quanto espresso nel testo:**
- A) Un campione di studenti di 18 anni ha compilato uno strumento formato da domande relative alla numerosità di diversi tipi di abuso sessuale subite dalle persone prima di essere maggiorenni.
  - B) Lo studio descritto riporta che sono soprattutto le femmine ad essere abusate nei primi 18 anni di vita, rispetto ai maschi.
  - C) Il questionario utilizzato potrebbe non essere in grado di rilevare alcuni tipi di abusi.
  - D) I dati riportati dallo studio descritto sottolineano la necessità di programmi di prevenzione per le vittime di abuso sessuale, ma non per i perpetratori.
- 7) **In quale Paese Hugo Chavez promosse la “Rivoluzione Bolivariana”?**
- A) In Bolivia
  - B) In Argentina
  - C) In Venezuela
  - D) In Perù
- 8) **Individua la parola da scartare:**
- A) Gruppo
  - B) Individuo
  - C) Comunità
  - D) Società
- 9) **Che cos'è il TTIP?**
- A) Un partito indipendentista del Portogallo
  - B) Un trattato di libero scambio commerciale tra USA e Unione Europea
  - C) Una organizzazione per la pace religiosa
  - D) Un progetto di sviluppo delle linee ferroviarie
- 10) **Indica il valore di x che permette di completare la seguente successione di numeri:**  
3 5 9 17 X 65
- A) 34
  - B) 33
  - C) 35
  - D) 36
- 11) **Individua il rapporto anomalo:**
- A) Assistente sociale – Bambino
  - B) Insegnante di scuola primaria – Bambino
  - C) Professore di scuola secondaria di secondo grado – Adolescente
  - D) Professore universitario – Giovane adulto
- 12) **Secondo la Costituzione repubblicana italiana, un cittadino può perdere il diritto al voto?**
- A) No, mai.
  - B) Sì, in specifici casi previsti dalla legge.
  - C) Sì, ma soltanto se vi rinuncia volontariamente.
  - D) Sì, se è un immigrato.

- 13) Se le tre affermazioni riportate di seguito sono vere, quale tra le alternative proposte è vera?
- Lucia non ama viaggiare
  - Chi è pigro non ama viaggiare
  - Paolo è pigro
- A) Lucia è pigra.
  - B) Paolo non ama viaggiare.
  - C) Chi non ama viaggiare è pigro.
  - D) Nessuna delle precedenti.

Si legga il seguente testo.

«Ma ci domandiamo mai perché, allo stesso tempo, in vaste aree del nostro pianeta manca ciò che è indispensabile, il cibo, l'acqua, la casa, la difesa dalle epidemie, mentre non mancano quasi mai le armi e gli strumenti di oppressione? Se viviamo in un mondo globalizzato, non possiamo negare che anche questo è il nostro mondo, che anche di questo siamo in qualche modo responsabili. O forse è vero che la prima scelta condiziona anche la seconda? Le ideologie, le scuole filosofiche e i sociologi, le organizzazioni internazionali sembrano impotenti. E intanto riaffiora la tendenza a usare la forza per contrastare la violenza; ricompare quella formula consunta dell'ultima guerra per eliminare le guerre. Mio nonno, alla conclusione della seconda guerra mondiale, quando gli dicevo che essa era stata a tal punto crudele e distruttiva da potersi a giusta ragione dire l'ultima, mi obiettava saggiamente: "Ho già sentito queste parole dopo la prima guerra mondiale... eppure, poi, è venuta anche la seconda!" Ma di queste ultime guerre ne abbiamo vissute più d'una, e sono state tutte sempre più orribili e più distruttive. Ecco, a futura memoria: la guerra può solo generare la guerra. La cultura alternativa che dobbiamo promuovere non può essere che quella della pace». (Amos Luzzatto; relazione svolta nell'ambito del convegno "Il cammino della memoria tra conflitti e attualizzazioni", 26 ottobre 2003).


- 14) Facendo riferimento al testo sopra riportato, individuare tra le osservazioni che seguono quella che è in contrasto con quanto espresso nel testo:
- A) È possibile promuovere la cultura della pace solo se si è sicuri che una guerra non sarà l'ultima.
  - B) La cultura della pace va promossa ad ogni costo.
  - C) Non è possibile sostenere che una guerra possa davvero essere l'ultima.
  - D) Pensare di eliminare la violenza usando la forza è una tendenza che torna ad essere presente.
- 15) Facendo riferimento al testo sopra riportato, individuare tra le osservazioni che seguono quella che è in contrasto con quanto espresso nel testo:
- A) Alla prima guerra mondiale è seguita la seconda.
  - B) La cultura della pace è una cultura alternativa a quella dell'uso della forza per eliminare la violenza.
  - C) La seconda guerra mondiale è stata la più orribile e distruttiva delle guerre.
  - D) L'uso della forza non garantisce la cultura della pace.

- 16) Facendo riferimento al testo sopra riportato, individuare tra le frasi che seguono quella che è in linea con quanto espresso nel testo:**
- A) Non è con la violenza che si promuove la pace.
  - B) Il nonno dell'autore ritiene che dopo la prima guerra mondiale ci sia stata la seconda.
  - C) Nel mondo globalizzato non è possibile sentirsi tutti responsabili della mancanza di generi di prima necessità nel pianeta.
  - D) Le organizzazioni internazionali promuovono una cultura di sopraffazione.
- 17) Facendo riferimento al testo sopra riportato, individuare tra le frasi che seguono quella che è in linea con quanto espresso nel testo:**
- A) La prima guerra mondiale è stata peggiore della seconda.
  - B) Non c'è alcun legame tra la mancanza di beni fondamentali e l'aumento della quantità di armi e di strumenti di oppressione.
  - C) La globalizzazione rende tutti in qualche modo responsabili della mancanza dei beni fondamentali e della presenza di armi e strumenti di oppressione.
  - D) Le organizzazioni internazionali sono responsabili della promozione della cultura della pace.
- 18) Chi proclamò la “Dichiarazione universale dei diritti dell’uomo”?**
- A) L’Assemblea Generale delle Nazioni Unite
  - B) Il Parlamento Europeo
  - C) Il Senato degli Stati Uniti d’America
  - D) Il Concilio Vaticano II
- 19) Individua il valore di x necessario per completare l’uguaglianza:**  
**Diritto : Leggi = Psicologia : x**
- A) Psicologi
  - B) Sociologia
  - C) Problemi
  - D) Persone
- 20) Una pasticceria si trova, a poco dall’orario di chiusura, con delle paste invendute. Il prezzo pieno delle paste è 1,20 euro l’una. Il proprietario decide di metterle in offerta e considera tre possibili alternative:**
- tre paste al prezzo di due
  - una pasta a prezzo pieno e la seconda a metà prezzo
  - uno sconto di 0,40 euro su ciascuna pasta acquistata.
- Quale delle seguenti affermazioni corrisponde al vero?**
- A) Vendendo 9 paste il proprietario ricaverebbe lo stesso profitto nella prima e nella seconda alternativa ma non nella terza.
  - B) Vendendo 9 paste il proprietario ricaverebbe lo stesso profitto nella seconda e nella terza alternativa ma non nella prima.
  - C) Vendendo 9 paste il proprietario ricaverebbe lo stesso profitto nella prima e nella terza alternativa ma non nella seconda.
  - D) Vendendo 9 paste ricaverebbe lo stesso profitto con ciascuna delle tre alternative.


21) In Italia tutte le religioni hanno la libertà di svolgere liberamente le loro attività?

- A) Sì.
- B) Sì, ma solo se c'è un accordo con lo Stato italiano.
- C) Sì, ma solo se le religioni non rappresentano un pericolo per la cultura italiana.
- D) No, sono riconosciute solo le religioni storicamente integrate con la storia nazionale.

22) Osserva le seguenti rappresentazioni grafiche.




a



b



c



d



e

Quale tra le 5 rappresentazioni grafiche corrisponde alla relazione insiemistica tra i seguenti 3 termini? Assistenti sociali, Persone estroverse, Persone introversive

- A) a
- B) b
- C) d
- D) e

23) Completa i termini mancanti della proporzione:

$x : \text{Successo scolastico} = \text{Demotivazione} : y$

- A)  $x = \text{Benessere}$ ,  $y = \text{Fallimento scolastico}$
- B)  $x = \text{Motivazione}$ ,  $y = \text{Benessere}$
- C)  $x = \text{Motivato}$ ,  $y = \text{Insuccesso scolastico}$
- D)  $x = \text{Motivazione}$ ,  $y = \text{Fallimento scolastico}$

24) Paolo oggi ha studiato 30 pagine in 5 ore. Considerando che il libro che deve studiare ha complessivamente 240 pagine quanti altri giorni impiegherà per studiare il resto del libro sapendo che nei prossimi giorni potrà studiare 210 minuti al giorno?

- A) 11
- B) 12
- C) 8
- D) 10

25) In Italia, in quali tra i seguenti casi è legittimo allontanare un minore dalla propria famiglia?

- A) In una famiglia povera
- B) In una famiglia Rom
- C) In una famiglia in cui vengono trascurate le responsabilità genitoriali
- D) In una famiglia immigrata che non riesce ad integrarsi

26) Completa i termini mancanti della proporzione:

$\text{Delucidare} : x = y : \text{Lusingare}$

- A)  $x = \text{Confondere}$ ,  $y = \text{Disilludere}$
- B)  $x = \text{Confondere}$ ,  $y = \text{Adulare}$
- C)  $x = \text{Chiarire}$ ,  $y = \text{Spiegare}$
- D)  $x = \text{Spiegare}$ ,  $y = \text{Disilludere}$

**27) Chi è l'attuale Presidente della banca Centrale Europea?**

- A) Jean-Claude Trichet
- B) Christine Lagarde
- C) Jean-Claude Juncker
- D) Mario Draghi

**28) Nel novembre del 2004 George W. Bush è stato rieletto presidente degli USA, battendo?**

- A) Al Gore
- B) Bill Clinton
- C) John Kerry
- D) Hilary R. Clinton

**29) Claudia dice a Renata: “Se sabato c’è il sole vado al lago. Se sta bene, porto anche il nonno”. Il sabato Renata incontra Luca che le dice: “Ho appena visto Claudia seduta al caffè davanti alla cattedrale”. Allora sicuramente:**

- A) Il tempo è bello ma il nonno di Carla non sta bene.
- B) Il tempo non è bello.
- C) Il tempo non è bello e il nonno di Claudia non sta bene.
- D) Il tempo è bello ma il nonno si è rifiutato di andare.

**30) Di quale Paese è stata Presidente Dilma Rouseff?**

- A) Algeria
- B) Filippine
- C) Islanda
- D) Brasile

**31) Individua il valore di x necessario per completare l'uguaglianza:**

**Botanica : Vegetali = Entomologia : x**

- A) Sangue
- B) Insetti
- C) Parole
- D) Vino

**32) Mario e Laura sono sposati da 25 anni e hanno 3 figli: Lucia di 23 anni, Giorgio di 22 anni e Francesca di 20 anni. Lucia è sposata con Michele che ha 26 anni ed hanno una figlia di 2 anni che si chiama Federica. Giorgio e Francesca sono ancora single. Se tu sei Michele, chi sei per Francesca?**

- A) Cognato
- B) Genero
- C) Nipote
- D) Zio

**33) Completa i termini mancanti della proporzione:**

**x : Mingherlino = Aitante : y**

- A) x = Vigoroso, y = Gagliardo
- B) x = Esile, y = Fragile
- C) x = Vigoroso, y = Prestante
- D) x = Esile, y = Vigoroso



**34) In Italia, chi ha il potere di sciogliere le camere e di indire nuove elezioni politiche?**

- A) Il presidente del Senato
- B) Il presidente della Camera
- C) Il presidente del Consiglio dei Ministri
- D) Il presidente della Repubblica

**Leggi il seguente brano e rispondi alle relative domande:**

**“Non riuscivo neanche a farti arrabbiare. Come nubi spazzate da un libeccio improvviso, le tue irritabilità erano scomparse. E così le crisi di angoscia, gli attacchi di collera. Al loro posto stagnava una specie di abulia, o una quieta pigrizia, e da questa emergevi soltanto ad intervalli precisi per sollecitazioni precise.”**

**(Fallaci O., *Un uomo*, p. 213).**

**35) La parola *abulia* significa:**

- A) Volubilità
- B) Avidità di cibo
- C) Inerzia
- D) Risolutezza

**36) Quale delle seguenti affermazioni coincide con quanto espresso nel testo?**

- A) Collera, angoscia e irritabilità si eclissavano come nubi allontanate dal vento.
- B) L'irritabilità scompariva ma non l'angoscia e la collera.
- C) Angoscia e collera sparivano ma l'irritabilità restava.
- D) Collera, angoscia e irritabilità erano alimentate da un vento improvviso.

**37) Tra le definizioni sotto elencate di quattro parole che compaiono - sottolineate - nel testo, una è imprecisa rispetto al senso del brano. Quale?**

- A) Nubi = Ammassi di goccioline d'acqua o di minuscoli cristalli di ghiaccio in sospensione nell'aria
- B) Libeccio = vento che spira da sud-ovest
- C) Stagnava = ricorreva
- D) Sollecitazioni = stimoli

**38) Andrea impiega 4 giorni per colorare una barca. Giuseppe ne impiega 6 e Giulio 12. Quanto tempo impiegano i tre insieme per colorare la stessa barca?**

- A) 4 giorni
- B) 3 giorni
- C) 2 giorni
- D) 36 ore

**39) Il contrario di *filisteo* è:**

- A) Gretto
- B) Meschino
- C) Retrivo
- D) Anticonformista

**40) In quale periodo iniziò la costruzione del Muro di Berlino?**

- A) Nel 1918
- B) Nel 1939
- C) Nel 1961
- D) Nel 1989

41) Il contrario di *iroso* è:

- A) Iracondo
- B) Rabbioso
- C) Calmo
- D) Deriso

42) Ad una gara ciclistica partecipano 50 concorrenti. Fra di essi almeno uno è minorenne. Se prendo a caso due concorrenti, tra di essi vi sarà sempre almeno un maggiorenne. Quanti sono i minorenni?

- A) 1
- B) 25
- C) 49
- D) I dati non sono sufficienti per rispondere.


43) Leggi le tre seguenti affermazioni.

- Giorgia è motivata allo studio.
- Chi è curioso è motivato allo studio.
- Alice è curiosa.


Se tutte e tre le affermazioni sopra riportate sono vere, quale delle seguenti affermazioni è vera?

- A) Giorgia è curiosa.
- B) Alice è motivata allo studio.
- C) Chi è motivato allo studio è curioso.
- D) Nessuna delle precedenti.

44) Osserva le seguenti rappresentazioni grafiche.




a



b



c



d



e

Quale tra le 5 rappresentazioni grafiche corrisponde alla relazione insiemistica tra i seguenti 3 termini? Nuotatori, Giocatori di scacchi, Alunni di scuola primaria

- A) a
- B) b
- C) c
- D) e

45) In quale continente si trovano le Cascate Vittoria (Victoria Falls)?


- A) America del nord
- B) America del sud
- C) Asia centrale
- D) Africa

**46) Individua il rapporto anomalo:**


- A) Demografo – Antichità
- B) Fattucchiere – Stregoneria
- C) Mendicante – Accattonaggio
- D) Predicatore – Sermone

**47) In quale, tra i seguenti Stati, l'arabo non è la lingua ufficiale?**

- A) Iran
- B) Siria
- C) Giordania
- D) Arabia Saudita

**48) Osserva le seguenti rappresentazioni grafiche.**


a



b



c



d



e

Quale tra le 5 rappresentazioni grafiche corrisponde alla relazione insiemistica tra i seguenti 3 termini? **Maggiorenni stranieri, minori stranieri, minori stranieri non accompagnati**

- A) e
- B) a
- C) d
- D) c


**49) In quale, tra i seguenti Stati, si trova il Deserto dei Gobi?**

- A) Cina
- B) Russia
- C) Afghanistan
- D) Pakistan


**50) Se tutti gli studenti adorano studiare, allora:**

- A) Ogni studente non adora studiare.
- B) C'è uno studente che non adora studiare.
- C) Se non adora studiare, non è uno studente.
- D) Nessuna delle precedenti.

51) Osserva le seguenti rappresentazioni grafiche.




a



b



c



d



e

Quale tra le 5 rappresentazioni grafiche corrisponde alla relazione insiemistica tra i seguenti 3 termini? **Maltrattamento fisico, maltrattamento psicologico, abuso sessuale**

- A) a
- B) e
- C) b
- D) Nessuna delle precedenti

52) Quali, tra i seguenti fiumi europei, è il più lungo?

- A) Reno
- B) Elba
- C) Volga
- D) Loira

53) Date le seguenti affermazioni, individua quale alternativa è deducibile con certezza:

- **A Roberta piacciono gli esami;**
- **a tutte le persone tranquille piacciono gli esami;**
- **ad alcune persone ansiose non piacciono gli esami, mentre ad altre piacciono;**

**Moreno è una persona ansiosa.**

- A) Roberta è una persona ansiosa.
- B) Roberta è una persona tranquilla.
- C) A Moreno non piacciono gli esami.
- D) Non è certo il fatto che a Moreno piacciono gli esami.

Leggi il seguente brano e rispondi alle relative domande.

“Come una indefinibile fata d’ombre...  
Vien da lungi la Sera, camminando  
per l’abetaia tacita e nervosa.  
Poi contro tutte le finestre preme  
le sue gelide guance; e, zitta, origlia.  
Si fa silenzio, allora, in ogni casa.  
Siedono i vecchi, meditando. I bimbi  
non si attentano ancóra ai loro giuochi.  
Le madri stanno siccome regine.  
Cade di mano alle fantesche il fuso.  
La Sera ascolta, trepida, pei vetri:  
tutti, all’interno, ascoltano la Sera.

54) In questa poesia di Ranier Maria Rilke, “da lungi” significa:

- A) Lentamente
- B) Ancora per molto tempo
- C) Da lungo tempo
- D) Da lontano

55) Tra le definizioni sotto elencate di quattro parole che compaiono - sottolineate - nel testo, una è imprecisa. Quale?

- A) Abetaia = bosco di abeti
- B) Origlia = ascolta
- C) Attentano = prestano attenzione
- D) Fantesche = domestiche


56) Con quale presidente gli Stati Uniti d’America conclusero la seconda guerra mondiale?

- A) F. D. Roosevelt
- B) H. Truman
- C) D. D. Eisenhower
- D) J. F. Kennedy


57) Un sinonimo di *rinomanza* è:

- A) Anonimato
- B) Ignoranza
- C) Reputazione
- D) Pubblicazione

58) Osserva le seguenti rappresentazioni grafiche.




a



b



c



d



e

Quale tra le 5 rappresentazioni grafiche corrisponde alla relazione insiemistica tra i seguenti 3 termini? **Bambini di 5 anni, Alunni di scuola dell'infanzia, Bambini di 9 anni**

- A) b
- B) c
- C) e
- D) a

59) In quale anno vennero assassinati il Giudice Giovanni Falcone e la sua scorta?

- A) 1978
- B) 1982
- C) 1992
- D) 2001

60) Indica la parola da scartare:

- A) Cellulare
- B) Telefono fisso
- C) Tablet
- D) Personal computer


61) Il contrario di *estenuante* è:

- A) Fiaccante
- B) Estesio
- C) Stancante
- D) Riposante


62) Quale, tra le seguenti catene montuose europee, si trova più a est dell'Italia?

- A) Pirenei
- B) Alpi Dinariche
- C) Urali
- D) Carpazi
- E)

63) Osserva le seguenti rappresentazioni grafiche.




a



b



c



d



e

Quale tra le 5 rappresentazioni grafiche corrisponde alla relazione insiemistica tra i seguenti 3 termini? Studenti universitari, Studenti, Studenti di scuola primaria

- A) d
- B) a
- C) e
- D) b

64) Individua quale delle seguenti frasi contiene un errore:

- A) Se fossi stato gentile non ti saresti arrabbiato.
- B) Sarei tranquillo se tu ti comporti bene.
- C) Se avessi saputo che ti avrebbe fatto piacere ti avrei portato un regalo.
- D) Speravo portassi il dolce per il tuo compleanno.

Leggi il seguente brano e rispondi alle relative domande:

“Il metodo principe per acquisire conoscenza in fisica è l’esperimento, in cui si manipolano i parametri il cui effetto si sta indagando, si esegue un esperimento di controllo con parametri costanti, si ripete il processo più volte e si ottengono dati quantitativi. Questa strategia è così radicata che viene identificata dal senso comune con la scienza *tout court*. Certo non può essere usata nelle scienze storiche: non si può interrompere la formazione delle galassie, fermare e far ripartire gli uragani, far estinguere sperimentalmente gli orsi o ripetere in laboratorio l’evoluzione dei dinosauri. La conoscenza, in questi campi, arriva dall’osservazione, dall’analogia e dagli esperimenti naturali” (Diamond J., *Armi, acciaio e malattie. Breve storia del mondo negli ultimi tredicimila anni*, p. 325).

65) Quale potrebbe essere un titolo per questo brano?

- A) Metodi di indagine in fisica
- B) Scienze storiche e sperimentazione
- C) Come condurre esperimenti naturali
- D) Importanza del controllo nelle scienze storiche

66) Individuare, tra le seguenti, l’affermazione che NON concorda con quanto espresso nel brano:

- A) Osservazione, analogia ed esperimenti naturali sono i metodi propri delle scienze storiche.
- B) Il metodo per acquisire conoscenze nelle scienze storiche non corrisponde al metodo utilizzato dalla fisica.
- C) Il senso comune ritiene il metodo della fisica il metodo scientifico.
- D) Gli esperimenti naturali utilizzati nelle scienze storiche implicano sempre una manipolazione, un controllo dei parametri e una ripetizione dell’esperimento.

**67) Quale significato ha in questo contesto la parola “analogia”?**

- A) Relazione antitetica
- B) Analisi circostanziata
- C) Rapporto di somiglianza
- D) Analisi generica

**68) Indica la parola da scartare:**

- A) Fratello
- B) Padre
- C) Cognata
- D) Nonna

**69) Che cos'è la “primavera araba”?**

- A) Un movimento artistico di inizio 900
- B) Un movimento letterario iniziato nel 1927
- C) Un movimento di riforma della religione islamica
- D) Un insieme dei movimenti di protesta politica iniziati nel 2010

**70) Individua quale delle seguenti frasi contiene un errore:**

- A) Se fossi stato puntuale non avremmo litigato.
- B) Non mi sarei aspettato che tu arrivavi in ritardo.
- C) Se avessi ritardato mi sarei dispiaciuto assai.
- D) Pensavo fossi in ritardo.



