



UNIVERSITA' DEGLI STUDI DI VERONA

*Prova di Selezione per il Corso di Laurea in
Scienze del Servizio Sociale*

Fascicolo delle domande

APPLICA QUI IL
CODICE TEST

ATTENZIONE:

NON APRIRE L'INVOLUCRO DI PLASTICA
PRIMA CHE VENGA DATO IL SEGNALE DI
INIZIO PROVA

1) Individua il rapporto anomalo:

- A) Libreria – Libro
- B) Officina – Meccanico
- C) Macelleria – Carne
- D) Panetteria – Pane

2) Individua il rapporto anomalo:

- A) Falegname – Martello
- B) Scultore – Scalpello
- C) Bibliotecario – Libreria
- D) Chirurgo – Bisturi

3) Individua il valore di x necessario per completare l'uguaglianza:

Volare : Andare = Fragile : x

- A) Studiare
- B) Fragilità
- C) Accortezza
- D) Contento

4) Individua il valore di x necessario per completare l'uguaglianza:

Lavatrice : x = Auto : Gasolio

- A) Elettricità
- B) Acqua
- C) Lavastoviglie
- D) Benzina

5) Completa i termini mancanti della proporzione:

Psicologo : x = y : Corpo

- A) x = Mente, y = Medico
- B) x = Assistente sociale, y = Educatore
- C) x = Idee, y = Allenatore
- D) x = Psichiatra, y = Medicine

6) Completa i termini mancanti della proporzione:

x : Spesso = Poco : y

- A) x = Semplice, y = Di valore
- B) x = Raramente, y = Molto
- C) x = Occasionale, y = Abituale
- D) x = Mai, y = Tanto

7) Individua quale delle seguenti frasi contiene un errore:

- A) Se avessi saputo che stavi male sarei tornato prima dal lavoro
- B) Credevo che il treno arrivasse sul primo binario
- C) Spero che l'aereo non parta in ritardo
- D) Credevo che Antonio preferiva cenare a casa

8) Individua quale delle seguenti frasi contiene un errore:

- A) Continuando di questo passo ti laureerai in meno di tre anni
- B) Se avessi potuto riflettere avessi risposto giusto
- C) Non ignorare ciò che è giusto
- D) Se avessi studiato la materia ne saresti rimasto affascinato

9) Indica la parola da scartare:

- A) Delfino
- B) Dromedario
- C) Cammello
- D) Donnola

10) Indica la parola da scartare:

- A) Arrabbiato
- B) Felice
- C) Triste
- D) Intelligente

11) Completa la seguente frase:

“Nell’odierna società urbanizzata e individualista, in cui è aumentato il bisogno di ... costantemente di risorse finanziarie, la mancanza di denaro per le necessità quotidiane fa sentire gli anziani dipendenti, ... disponibili ad accettare le offerte di aiuto dei parenti” (Dominelli, 2005, p. 193).

- A) produrre – sempre
- B) fornire – sono
- C) disporre – poco
- D) occuparsi – purché

12) Completa la seguente frase:

“La psicologia dell’educazione riguarda un campo complesso, che va ... di là dei processi di apprendimento e insegnamento legati alla scuola, ... se questo specifico contesto resta di sicuro un campo di studio e di ricerca privilegiato” (Ligorio e Cacciamani, 2013, p. 11).

- A) anche – ma
- B) al – anche
- C) oltre – come
- D) al – nonostante

13) Gli spagnoli sono ospitali. Luis è ospitale. Alcune persone ospitali sono simpatiche.

Se quanto affermato è vero, quale delle seguenti affermazioni è vera?

- A) Luis è spagnolo
- B) Luis è simpatico
- C) Non si può dire se Luis sia o meno spagnolo
- D) Gli spagnoli sono tutti simpatici

14) Tutti gli architetti sono pignoli. Andrea ama la musica classica. Tutte le persone che amano la musica classica sono pignole. Se quanto affermato è vero, quale delle seguenti affermazioni è vera?

- A) Andrea è un architetto
- B) Tutti gli architetti amano la musica classica
- C) Tutte le persone pignole sono architetti
- D) Nessuna delle precedenti

15) Se gli atleti si allenano, supereranno le selezioni. Se quanto affermato è vero, quale delle seguenti affermazioni è vera?

- A) Se gli atleti si allenano, arriveranno primi nelle selezioni
- B) Supereranno le selezioni solo gli atleti che si sono allenati
- C) Se gli atleti hanno superato le selezioni, è possibile che si siano allenati
- D) Se gli atleti non si allenano, non supereranno le selezioni

16) Gli inesperti non hanno mai ragione. Quale fra le seguenti affermazioni è logicamente equivalente a tale affermazione?

- A) Gli esperti hanno sempre ragione
- B) Gli inesperti hanno sempre torto
- C) Gli esperti hanno sempre torto
- D) Nessuna delle precedenti

17) Sara è più alta di Marta. Giorgia è più bassa di Sara. Allora:

- A) Giorgia e Marta hanno la stessa altezza
- B) Marta è più alta di Giorgia
- C) Giorgia è più alta di Marta
- D) Nessuna delle precedenti

18) Se alcuni X sono Y e tutti gli Y sono Z, allora:

- A) Tutti gli X sono Z
- B) Nessun X è Z
- C) Tutti gli Z sono Y
- D) Alcuni Z sono X

19) Oggi Cappuccetto Rosso è andata a trovare la nonna (1) appena finito di fare i compiti (2). Tornerà a ritrovarla (3) dopo aver preso il cestino (4) che aveva preparato la mamma due giorni fa (5). Identifica la corretta sequenza cronologica degli eventi.

- A) 12354
- B) 52143
- C) 21543
- D) Nessuna delle precedenti

20) Oggi Marta affronta un test di ammissione per il corso di laurea (1) che ha desiderato frequentare fin da quando era piccola (2). Potrà iscriversi a tale corso (3) solo dopo che sarà venuta a conoscenza dell'esito del test (4). Identifica la corretta sequenza cronologica degli eventi.

- A) 2314
- B) 1234
- C) 2134
- D) Nessuna delle precedenti

21) Indica il valore di x che permette di completare la seguente successione di numeri:

6 18 31 45 x

- A) 59
- B) 60
- C) 61
- D) 62

22) Indica il valore di x che permette di completare la seguente successione di numeri:

20 18 16 15 12 12 x

- A) 7
- B) 8
- C) 10
- D) Nessuna delle precedenti

23) Indica il valore di x che permette di completare la seguente successione di lettere:

A D F I x

- A) O
- B) L
- C) G
- D) M

24) Indica il valore di x che permette di completare la seguente successione di lettere:

F G I O x

- A) U
- B) Z
- C) Q
- D) Nessuna delle precedenti


25) Individua il valore di x . Se $ABACO = 20$, allora $FALCO = x$

- A) 20
- B) 33
- C) 40
- D) 23

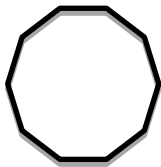
26) Uno studente ha studiato il 45% di un libro di 450 pagine, quante pagine deve ancora studiare?

- A) 247
- B) 247.5
- C) 249.5
- D) Nessuna delle precedenti

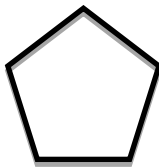
27) Osserva le seguenti figure: quale figura è da scartare?



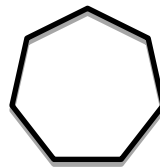
a



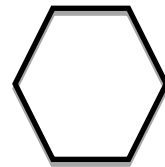
b



c




d




e

- A) b
- B) c
- C) e
- D) d

Osserva le seguenti rappresentazioni grafiche.



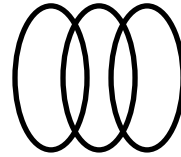
a



b



c



d



e

28) Quale tra le 5 rappresentazioni grafiche corrisponde alla relazione insiemistica tra i seguenti 3 termini?

Europei, Scrittori, Giovani.

- A) a
- B) b
- C) d
- D) Nessuna delle precedenti

29) Quale tra le 5 rappresentazioni grafiche corrisponde alla relazione insiemistica tra i seguenti 3 termini?

Castani, Studenti, Analfabeti.

- A) a
- B) d
- C) b
- D) Nessuna delle precedenti

30) Quale tra le 5 rappresentazioni grafiche corrisponde alla relazione insiemistica tra i seguenti 3 termini?

Cavalli, Gatti, Felini.

- A) b
- B) d
- C) e
- D) Nessuna delle precedenti

Leggi il seguente testo e rispondi alle relative domande.

Sei amici vanno al cinema: Andrea, Barbara, Carlo, Davide, Emma, Federico. Si dispongono su una fila di poltrone in questo modo:

- Andrea e Davide occupano le due estremità della fila;
- Uno degli amici separa Carlo e Federico;
- Davide e Federico sono l'uno accanto all'altro;
- Barbara è vicina ad Andrea.

31) Quale fra gli amici è vicino a Barbara?

- A) Emma
- B) Federico
- C) Davide
- D) Carlo

32) Quale delle seguenti rappresenta una sequenza corretta di tre amici adiacenti?

- A) Carlo, Emma, Federico
- B) Barbara, Carlo, Andrea
- C) Federico, Davide, Emma
- D) Carlo, Emma, Davide

Leggi il seguente brano e rispondi alle relative domande:

“Per svolgere un lavoro efficace nella comunità, gli operatori sociali devono liberarsi degli orientamenti individualistici e guardare seriamente alla mobilitazione e all'azione collettiva. Devono ripensare la pratica professionale impegnandosi con gli utenti, in qualità di partner, per rivitalizzare le comunità deprivate. Devono anche mettere in discussione alcuni elementi della pratica professionale, in particolare il mettere al primo posto il parere degli esperti, senza valorizzare il contributo degli utenti. Devono promuovere interventi orientati agli utenti, mirati a eliminare le disuguaglianze strutturali che distruggono le comunità e mettono ai margini le persone. Gli operatori possono contribuire a ciò se pensano alle comunità in termini fluidi, multidimensionali e dinamici, come entità che si vanno costantemente riconfigurando attraverso le interazioni interpersonali” (Dominelli, 2005, p. 273).

33) Qual è il tema centrale del brano?

- A) La mobilitazione e l'azione collettiva
- B) Le azioni necessarie per svolgere un lavoro efficace nella comunità
- C) La pratica professionale degli operatori sociali
- D) L'eliminazione delle disuguaglianze strutturali

34) Individuare, tra le seguenti, l'affermazione che NON concorda con quanto espresso nel brano:

- A) Gli operatori sociali devono evitare di mettere al primo posto il parere degli esperti
- B) Gli operatori sociali devono promuovere la partecipazione degli utenti
- C) È possibile ridurre le disuguaglianze mettendo gli utenti al centro della pratica professionale
- D) Guardare all'azione collettiva significa adottare orientamenti personalistici

35) Quale termine usa l'autrice per definire gli utenti?

- A) Entità
- B) Partner
- C) Esperti
- D) Comunità

36) Tra le definizioni sotto elencate di quattro parole che compaiono - sottolineate - nel testo, una è imprecisa. Quale?

- A) dinamici = in evoluzione
- B) individualistici = particolaristici
- C) rivitalizzare = rendere vitali
- D) strutturali = peculiari

Leggi il seguente brano e rispondi alle relative domande:

“Subito, non tanto per ingannare gli altri, che avevano voluto ingannarsi da sé, con una leggerezza non deplorabile forse nel caso mio, ma certamente non degna d'encomio, quanto per obbedire alla Fortuna e soddisfare a un mio proprio bisogno, mi posi a far di me un altr'uomo. [...] Ora mi sarebbe piaciuto che, non solo esteriormente, ma anche nell'intimo, non rimanesse più in me alcuna traccia di lui. Ero solo ormai, e più solo di com'ero non avrei potuto essere su la terra, sciolto nel presente d'ogni legame e d'ogni obbligo, libero, nuovo e assolutamente padrone di me, senza più il fardello del mio passato, e con l'avvenire dinanzi, che avrei potuto foggiarmi a piacer mio”.

37) A quale opera di Luigi Pirandello appartiene il brano?

- A) Sei personaggi in cerca d'autore
- B) Il fu Mattia Pascal
- C) Uno, nessuno e centomila
- D) La coscienza di Zeno

38) Tra le definizioni sotto elencate di quattro parole che compaiono - sottolineate - nel testo, una è imprecisa. Quale?

- A) deplorabile = biasimevole
- B) encomio = elogio
- C) fardello = peso
- D) foggiarmi = immaginarmi

Leggi il seguente brano e rispondi alle relative domande:

“Avevo notato da tempo, come ho già detto, che in fatto di costumi è necessario qualche volta seguire opinioni che si sanno assai incerte, proprio come se fossero indubitabili; ma dal momento che ora desideravo occuparmi soltanto della ricerca della verità, pensai che dovevo fare proprio il contrario e rigettare come assolutamente falso tutto ciò in cui potevo immaginare il minimo dubbio, e questo per vedere se non sarebbe rimasto, dopo, qualcosa tra le mie convinzioni che fosse interamente indubitabile. Così, poiché i nostri sensi a volte ci ingannano, vollì supporre che non ci fosse cosa quale essi ce la fanno immaginare. E dal momento che ci sono uomini che sbagliano ragionando, anche quando considerano gli oggetti più semplici della geometria, e cadono in paralogismi, rifiutai come false, pensando di essere al pari di chiunque altro esposto all’errore, tutte le ragioni che un tempo avevo preso per dimostrazioni” (Cartesio).

39) Quale delle seguenti affermazioni non coincide con quanto espresso nel testo?

- A) I sensi possono ingannare
- B) Le opinioni sono indubitabili
- C) Le dimostrazioni sono esposte all’errore
- D) È falso tutto ciò di cui si può dubitare

40) Il termine *paralogismo*, sottolineato nel testo, indica:

- A) Ragionamento non valido dal punto di vista logico
- B) Tipo perfetto di ragionamento deduttivo
- C) Atto riflessivo attraverso cui l’uomo diviene consapevole delle sue percezioni
- D) Tipo perfetto di ragionamento induttivo

41) Quale grande imperatore romano concesse ai cristiani la libertà di culto con l’editto di Milano del 313?

- A) Marco Aurelio
- B) Aureliano
- C) Diocleziano
- D) Costantino

42) In quale anno ebbe inizio la Rivoluzione francese?

- A) 1755
- B) 1789
- C) 1812
- D) 1848

43) In quale anno l’Italia entrò in guerra nel primo conflitto mondiale?

- A) 1914
- B) 1915
- C) 1917
- D) 1918

44) In quale anno il Re Vittorio Emanuele III destituì Benito Mussolini?

- A) 1939
- B) 1941
- C) 1943
- D) 1945

45) Quale, tra i seguenti presidenti d'America, iniziò la guerra in Vietnam?

- A) Kennedy
- B) Nixon
- C) Ford
- D) Carter

46) Quante sono le regioni a statuto speciale in Italia?

- A) 3
- B) 5
- C) 7
- D) 8

47) Di quale Stato è capitale la città di Sarajevo?

- A) Macedonia
- B) Cossovo
- C) Montenegro
- D) Bosnia ed Erzegovina

48) Quale importante scoperta geografica venne fatta nel 1492?

- A) La scoperta delle sorgenti del Nilo
- B) La scoperta della Cina
- C) La scoperta dell'America
- D) La scoperta del Rio delle Amazzoni

49) Quale tra i seguenti fiumi, nasce in Germania e sfocia in Ucraina?

- A) Il Don
- B) Il Danubio
- C) L'Elba
- D) Il Reno

50) Qual è lo stato più grande del continente europeo?

- A) La Germania
- B) La Francia
- C) La Russia
- D) L'Ucraina

51) Chi è l'attuale presidente della Banca Centrale Europea?

- A) Mario Monti
- B) Christine Lagarde
- C) Manuel Barroso
- D) Mario Draghi

52) Quale, tra questi personaggi, non è stato presidente della Repubblica Italiana?

- A) Francesco Cossiga
- B) Oscar Luigi Scalfaro
- C) Romano Prodi
- D) Carlo Azeglio Ciampi

53) Quante volte, dopo la prima, può essere rieletto il presidente degli Stati Uniti?

- A) Nessuna
- B) Una
- C) Due
- D) Non esiste nessun limite

54) Quale, tra i seguenti stati aderenti all'Unione Europea, non ha adottato l'Euro?

- A) Slovenia
- B) Irlanda
- C) Belgio
- D) Gran Bretagna

55) A quale partito appartiene la cancelliera tedesca Angela Merkel?

- A) CDU (cristiano democratici)
- B) SPD (socialdemocratici)
- C) FDP (liberaldemocratici)
- D) Die Linke (la sinistra)

56) Quanto dura la carica del presidente della Repubblica Italiana?

- A) 4 anni
- B) 5 anni
- C) 6 anni
- D) 7 anni

57) Chi nomina il capo del governo in Italia?

- A) Il popolo
- B) Il presidente della Repubblica
- C) Il Parlamento
- D) La Corte Costituzionale

58) In Italia, a quanti anni si è imputabili per un reato?

- A) 12 anni
- B) 13 anni
- C) 14 anni
- D) 16 anni



59) In Italia, chi ha diritto a ricevere le cure sanitarie d'urgenza?

- A) Solo i cittadini italiani
- B) I cittadini italiani e gli stranieri in regola con i permessi di soggiorno
- C) I cittadini italiani e gli stranieri con il permesso di residenza
- D) Tutti coloro che si trovano sul suolo nazionale

60) Secondo la Costituzione, l'Italia è una Repubblica democratica fondata...

- A) Sulla libertà
- B) Sul popolo
- C) Sul lavoro
- D) Sul diritto

